

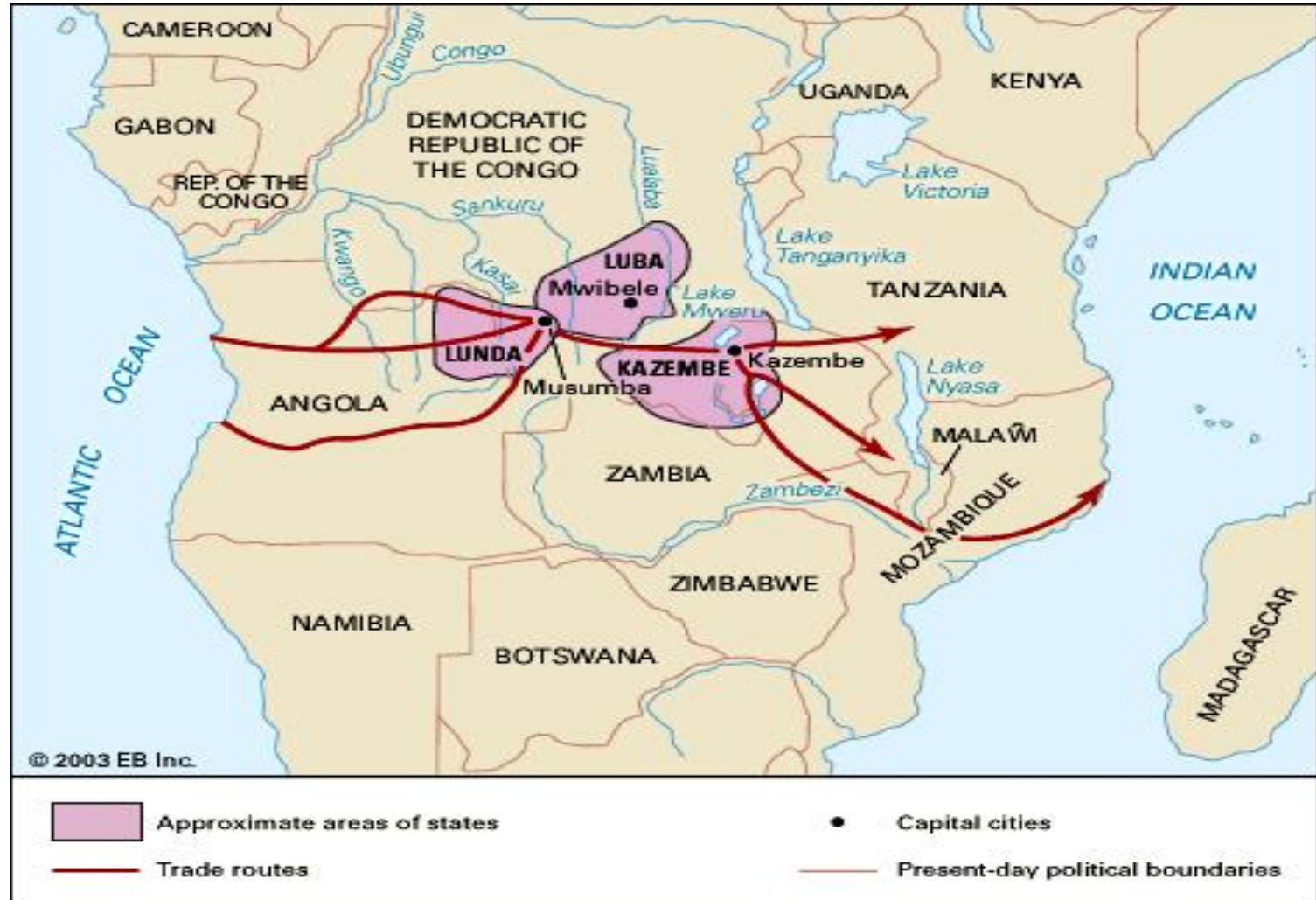


Matemática e Arte

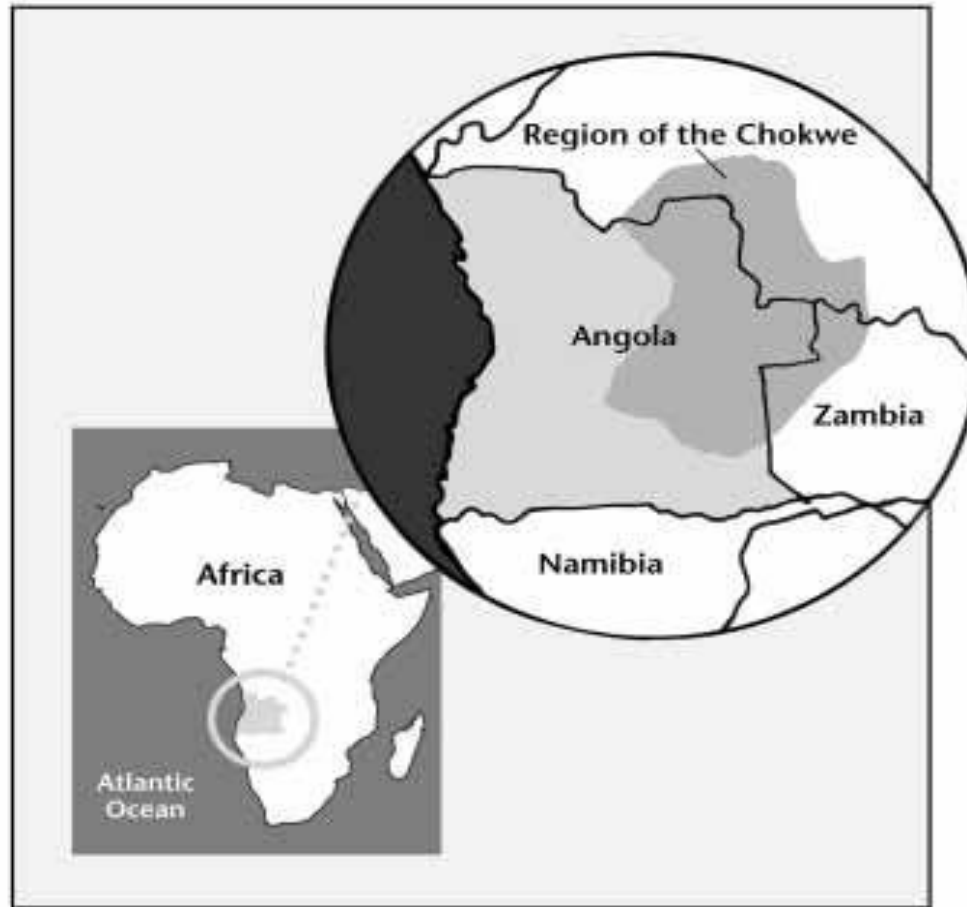
Minicurso com base no livro de Paulus Gerdes

Profa. Dra. Vanessa Largo
Profa. Ms. Heloísa C. da Silva

Reino Lunda, nordeste de Angola, região do povo Cokwe



Região do povo Cokwe




<http://1.bp.blogspot.com/-Ktmn7Zz2uw0/TcbHyJ5AFWI/AAAAAAAAA-g/VcvVAPDo3f4/s400/Region%2Bof%2Bthe%2BChokwe.jpg>

Bandeira do Reino Lunda



http://www.africafederation.net/Lunda_3.htm

Alguns tipos de coroa real do povo Cokwe, podem ter evoluído dos penteados em cascata, comuns na África central. Observemos os desenhos existentes na coroa.




No extremo Nordeste de Moçambique

- Mulheres produzem esteiras de bandas costuradas, que servem para dormir ou para ornamentar a casa;
- utilizam tiras de uma só cor, vibrante, ou produzem as bandas decoradas (*mpaángo*), nas quais as tiras escuras e claras são entrecruzadas, formando ângulos de “45 graus” com os rebordos da banda.

Movimento em ziguezague de uma tira ao longo de uma banda:



As duas faces de uma esteira makwe e os dois tipos de bandas:




Sona: os contos ilustrados de Angola

- **Etnomatemática:** estudo das ideias matemáticas existentes em diferentes culturas. A matemática deixa de ser uma disciplina considerada “pouco interessante” e “estranha”;
- desenhos chamados “sona” (plural) ou “lusona” (singular);
- o educador matemático **Paulus Gerdes** investigou a geometria existente nos desenhos da tradição do povo cokwe da África. Temos essa pesquisa em seu livro “***Da etnomatemática a arte-design e matrizes cíclicas***”;
- em várias culturas africanas, o nó entrançado simboliza a amizade.

“AMIZADE”

Com uma única tira, vamos trançar a menor esteira retangular possível?




Passos para auxiliar no entrançado da esteira retangular com uma tira

- 1º Dobrar toda a tira de 1,5 cm em 1,5 cm;
- 2º Numerar do 1 ao 44, 45...;
- 3º **Sempre com ângulos de 45 graus**, dobrar o 30 ao meio (o número ficará escondido);
- 4º dobrar o 29 para cima;
- 5º deixar três retângulos e dobrar o 25 ao meio e para baixo e depois o 24 para baixo;
- 6º deixar aproximadamente dois retângulos, dobrar o 21 (o número ficará escondido), já é preciso que visualize o retângulo;
- 7º passar a tira por baixo do 28 e por cima do 31;
- 8º dobrar o 19-18 para baixo e 18-17 para baixo novamente;
- 9º passar por baixo do 32, por cima do 27 e por baixo do 22;
- 10º dobrar o 13 para cima e o 12 para baixo;
- 11º passar a tira por cima do 23 e por baixo do 26.

Simbolizando a Amizade:

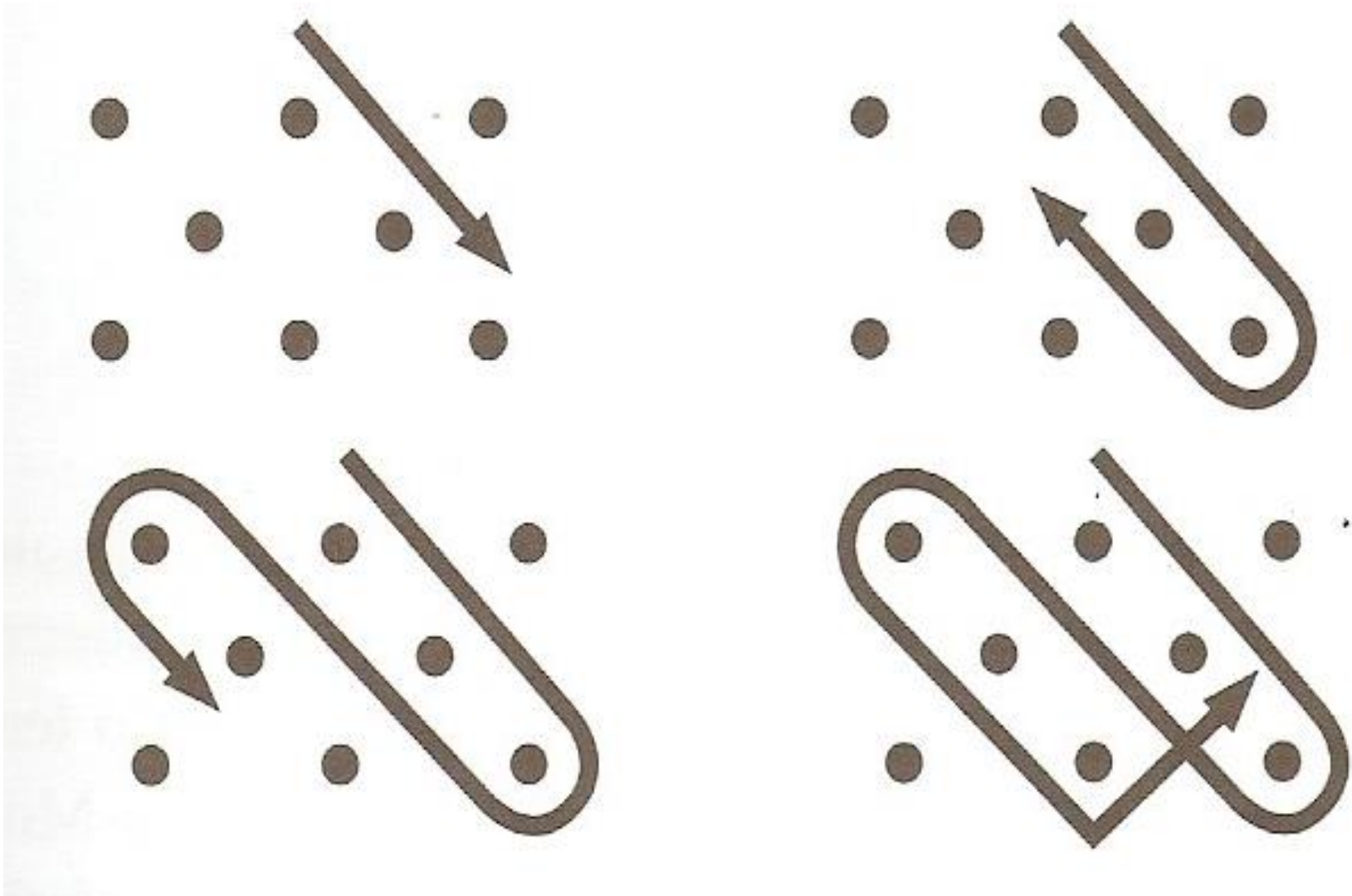
vamos construir esse 'lusona'? Lembrando que é preciso utilizar uma só linha, sem tirar a caneta do papel.




Orientações para a construção do lusona da
amizade....

Sistema de Coordenadas

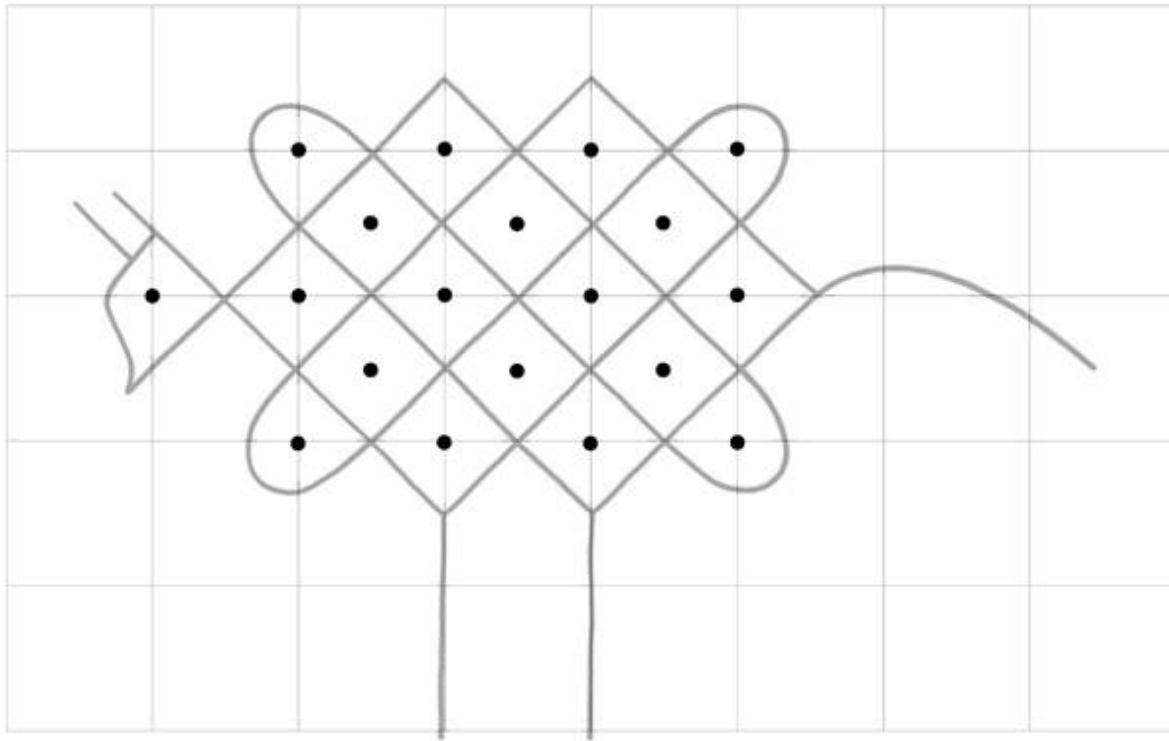
O povo cokwe marca pontos equidistantes com os dedos no solo alisado, e com uma só linha traçam:




O nó entrançado une os povos, simboliza a amizade entre as pessoas.



Desenhos de animais



Desenhos de animais





Um algoritmo geométrico em execução:
as histórias são contadas e desenhadas no chão
alisado. Segundo a tradição cokwe, a linha é desenhada
sem interrupções, abraça todos os pontos da grelha e
apresenta uma simetria rotacional.

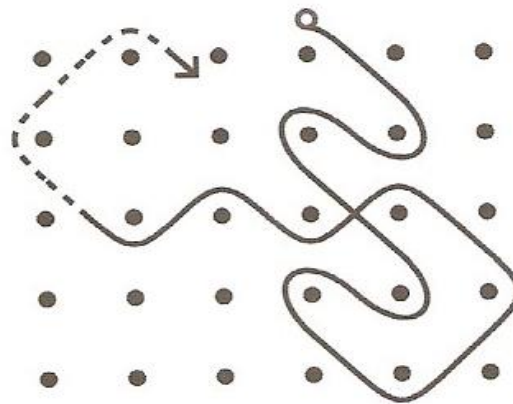
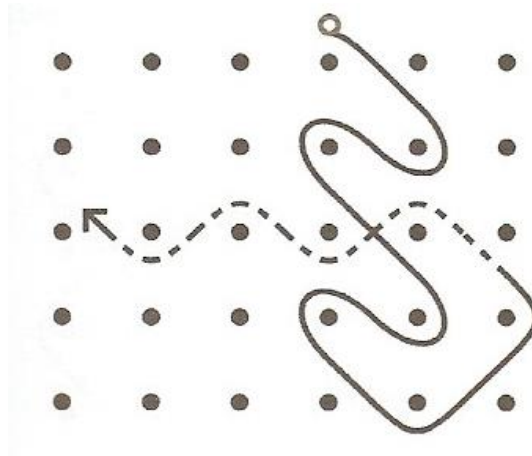


A HISTÓRIA DA 'GALINHA EM FUGA'

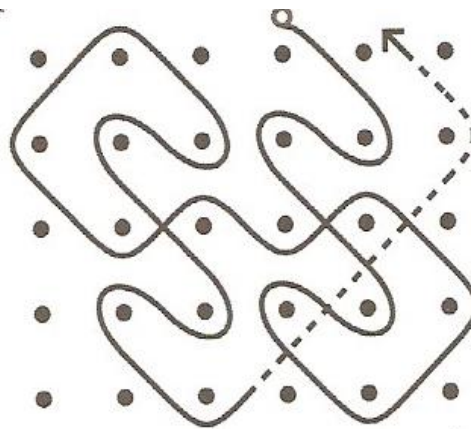
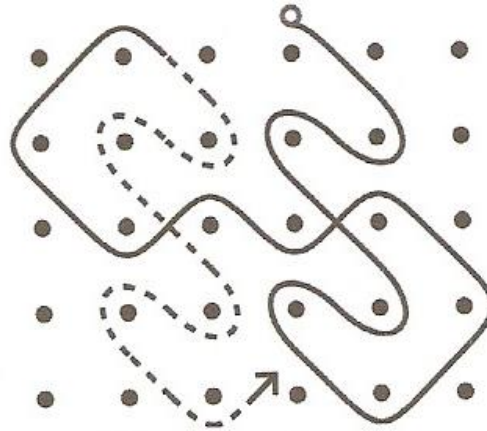
Galinha em fuga



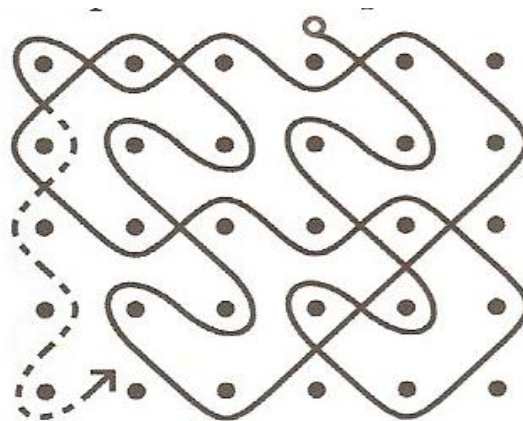
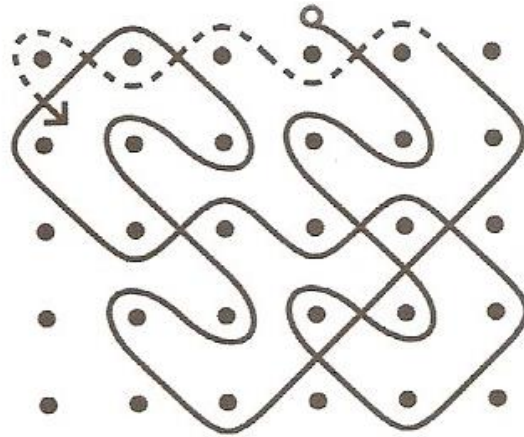
Galinha em fuga



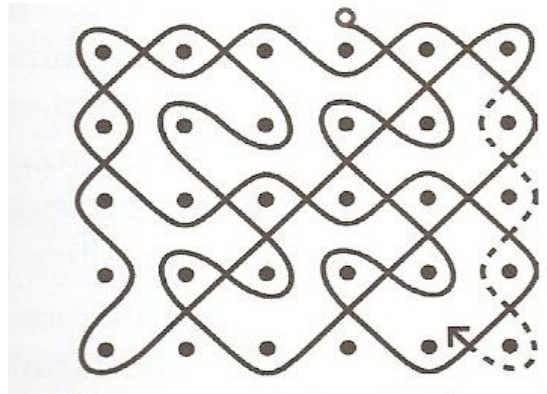
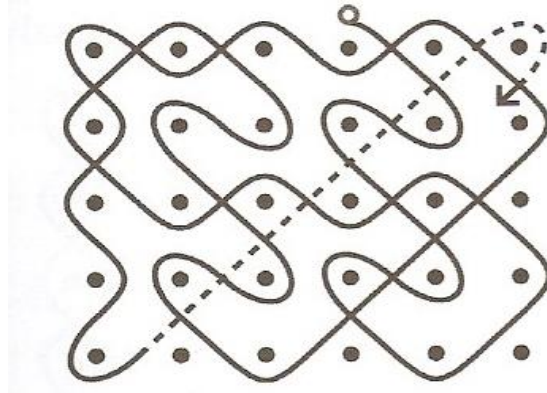
Galinha em fuga




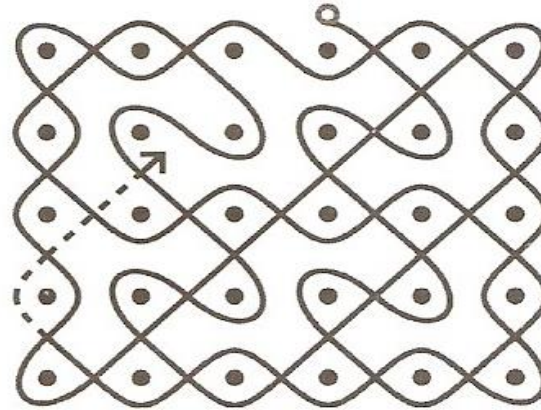

Galinha em fuga



Galinha em fuga




Galinha em fuga

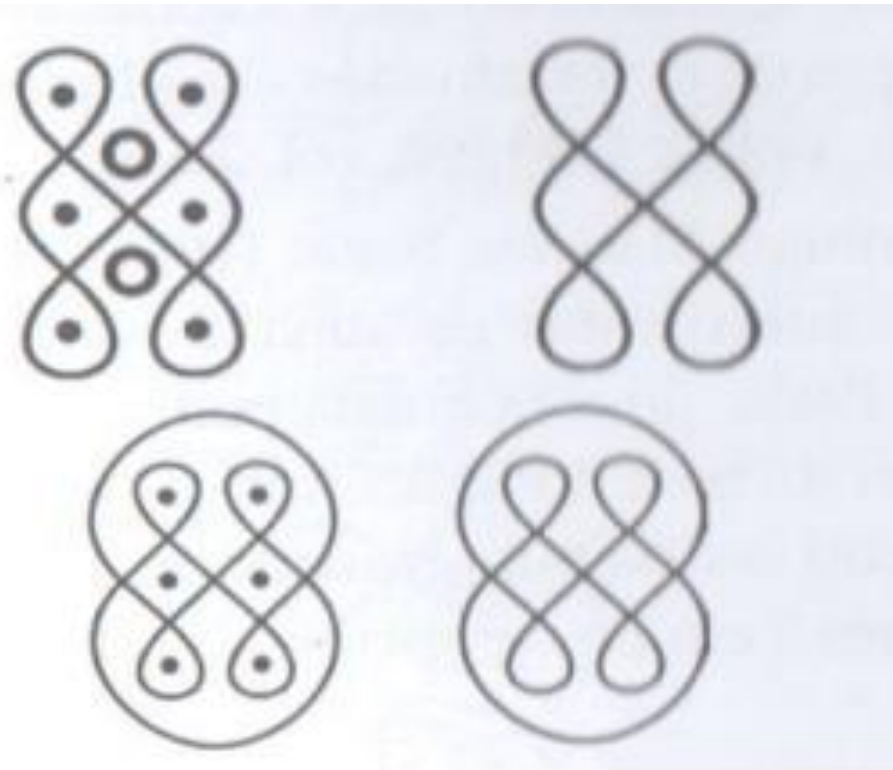


Vamos pensar na rotação de 180 graus desse lusona? O que ocorreu?

Exemplo egípcio: serpente pintada no túmulo do faraó Ramsés III (1182-1151 a.C.)



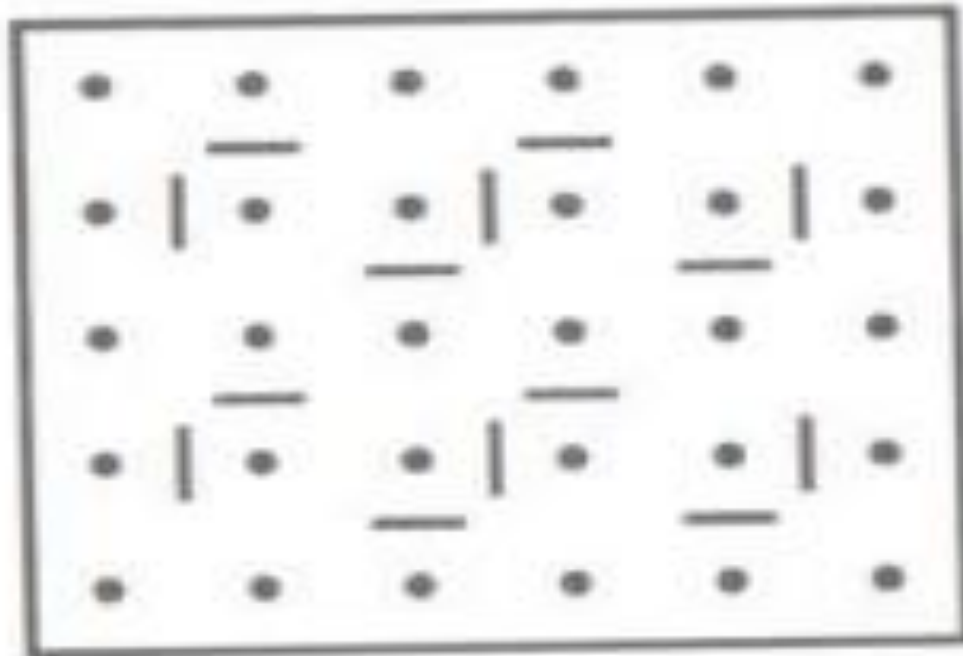
Existe semelhança com os 'sona' de Angola.
Acrescentando os pontos, os desenhos do Egito
Antigo são iguais aos 'sona'.



Nos exemplos observamos os padrões monolineares: uma única linha abraça todos os pontos da grelha. Os dois padrões que temos agora, são exemplos de desenhos feitos por mulheres tamil no sul da Índia.

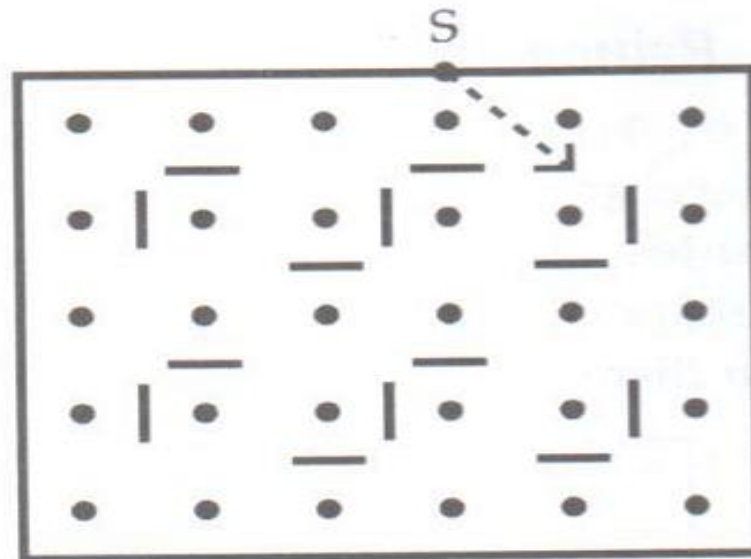


Princípio de construção: dos sona de Angola, dos desenhos do Egito Antigo e dos desenhos das mulheres tamil no sul da Índia. Imaginemos que os lados dos retângulos sejam espelhos, e que no interior do retângulo possamos colocar espelhos menores.



Imaginemos que os espelhos sejam duplos, ou seja, ambas as suas faces refletem raios de luz que incidem sobre elas.

Seja S um ponto no rebordo retangular, situando-se verticalmente por cima dum dos pontos da grelha. Imaginemos, agora, que se emita um raio de luz a partir do ponto de partida S , fazendo um ângulo de 45° com a linha horizontal:

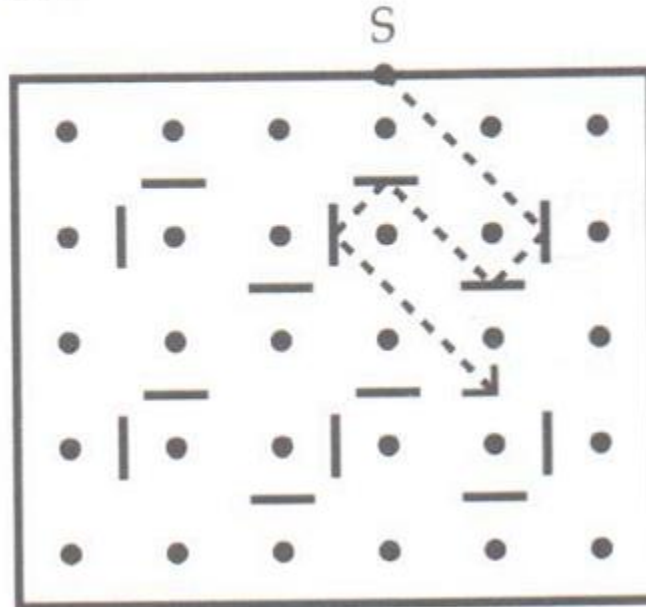


O percurso do lusona 'galinha em fuga' é a versão arredondada da linha poligonal construída. O lusona da 'galinha em fuga' é uma *curva-de-espelho-regular*.


Regular no sentido dos espelhos estarem colocados de acordo com a regra:




Ao atravessar a grelha, o raio de luz reflete-se tanto nos espelhos pequenos que encontra no seu percurso como nos lados do retângulo:




Como podemos observar no lusona do percurso da 'galinha em fuga', a curva-de-espelho-regular



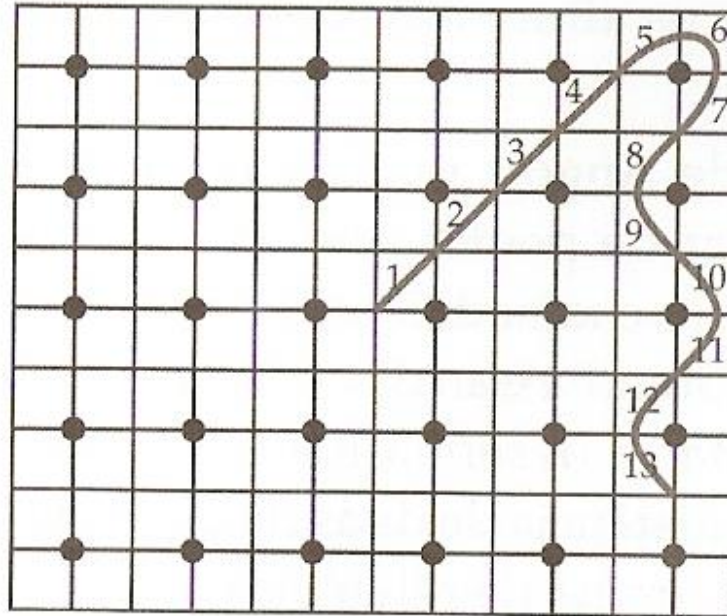
Paulus Gerdes a caminho da descoberta



Deste modo, um desenho composto por uma única linha como o da 'galinha em fuga' passa exatamente uma única vez por cada um dos quadradinhos dentro do retângulo circunscrito à linha.



Enumerando os retângulos circunscritos a linha




Deste modo obtém-se, a partir da curva inicial, o seguinte retângulo numérico:


106	105	69	70	102	101	33	34	98	97	5	6
107	68	104	103	71	32	100	99	35	4	96	7
67	108	76	75	31	72	40	39	3	36	8	95
66	109	77	30	74	73	41	2	38	37	9	94
110	65	29	78	62	61	1	42	58	57	93	10
111	28	64	63	79	120	60	59	43	92	56	11
27	112	84	83	119	80	48	47	91	44	12	55
26	113	85	118	82	81	49	90	46	45	13	54
114	25	117	86	22	21	89	50	18	17	53	14
115	116	24	23	87	88	20	19	51	52	16	15

Será que
existe alguma
relação entre
os
quadrinhos
?

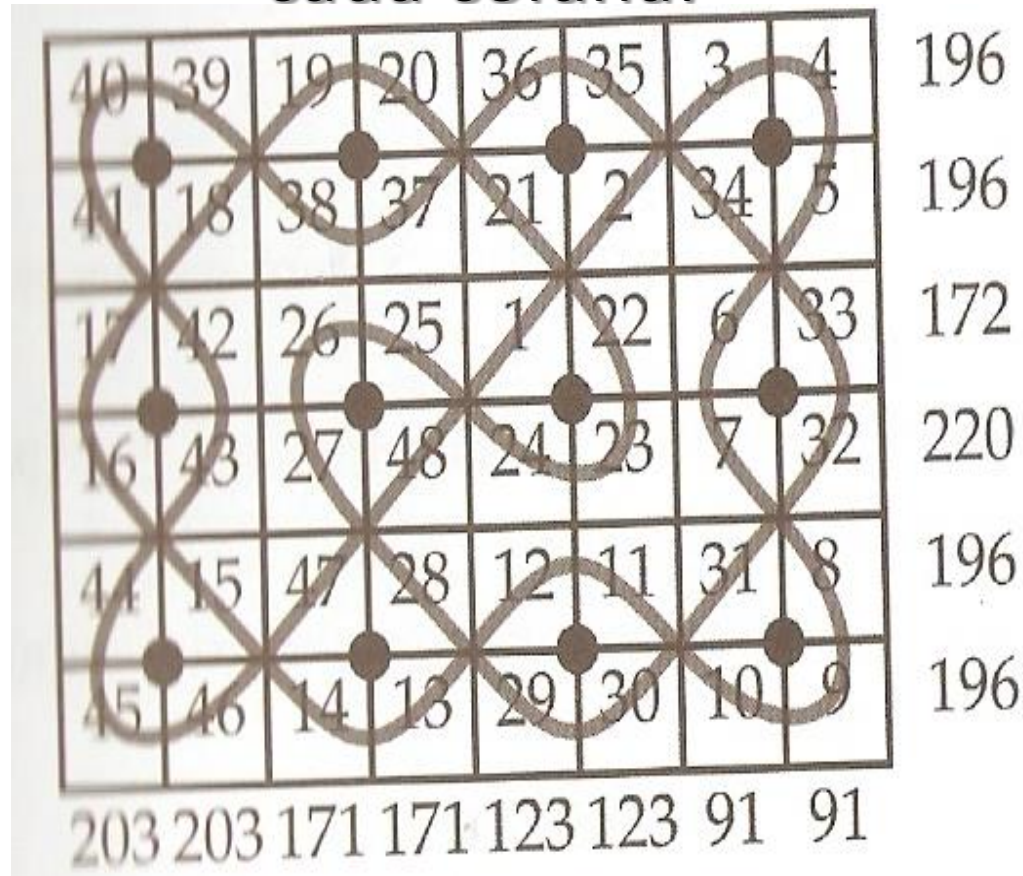
Para observarmos se existem relações, vamos utilizar um lusona com um padrão similar, menor:



Enumerando os retângulos circunscritos a linha



O lusona numerado a partir do centro, e ao lado, temos os números das somas de cada linha e cada coluna:



Gostaríamos que as seis somas fossem iguais!!!

Assim, teríamos um retângulo “mágico”!!!

Retângulo “mágico”

Será que alguma vez poderá acontecer:

$$220 = 196 = 172 ?$$

“Números distintos nunca podem ser realmente iguais; no máximo podem ser **equivalentes** ou **iguais módulo m** ” (GERDES, 2010, p. 54).

contagem natural	1	2	3	4	5	6	7	8	9	10	11	12	13	...
contagem módulo 4	1	2	3	0	1	2	3	0	1	2	3	0	1	...

Aritmética dos Restos

Módulo 4

Se efetuarmos:

17 : 4, temos?
quociente 4 e **resto 1**.

21 : 4, temos?
quociente 5 e **resto 1**.

Ou seja:

17 é congruente a 21 mod4,
pois os restos são iguais a 1.

Na vida diária, contamos frequentemente módulo 12 ou módulo 7. Quando agora são 9 horas da manhã, daqui a 12 horas são 21 horas, ou seja, 9 horas da noite. Daqui a 24 horas, não são 33 horas, mas, de novo, 9 horas da manhã. Por outras palavras, temos $33 \equiv 21 \equiv 9$ módulo 12. No relógio, contamos o tempo em ciclos de 12 horas. Hoje é quarta-feira. Tendo passado 7 dias, não estaremos na 11.^a feira, mas sim, de novo, na quarta-feira; tendo passado 21 dias, não estaremos na 25.^a feira, mas de novo na quarta-feira. Por outras palavras, temos $25 \equiv 18 \equiv 11 \equiv 4$ módulo 7.

Definição (Gerdes, 2010, p.54)

Seja m um número natural qualquer maior que 1. Dois números inteiros p e q são chamados equivalentes ou iguais módulo m , se $p - q$ for um múltiplo de m .

Então, para que valores de m poderá acontecer:

220 ser congruente a 196 ser congruente a 172 módulo m ?

Façamos: $p - q$

Considerando as linhas:

$$220 - 196 = 24$$

Considerando as colunas:

$$203 - 171 = 32.$$

Ambos são múltiplos de m , logo: $32 - 24 = 8$ também o é.


Vemos então que m só pode ser: 8, 4 ou 2.

Observemos os números. Ao invés de numerar


1,2,3,4,5,6,7,.....

enumeraremos módulo 4

(1, 2, 3, 0, 1, 2, 3, 0,)

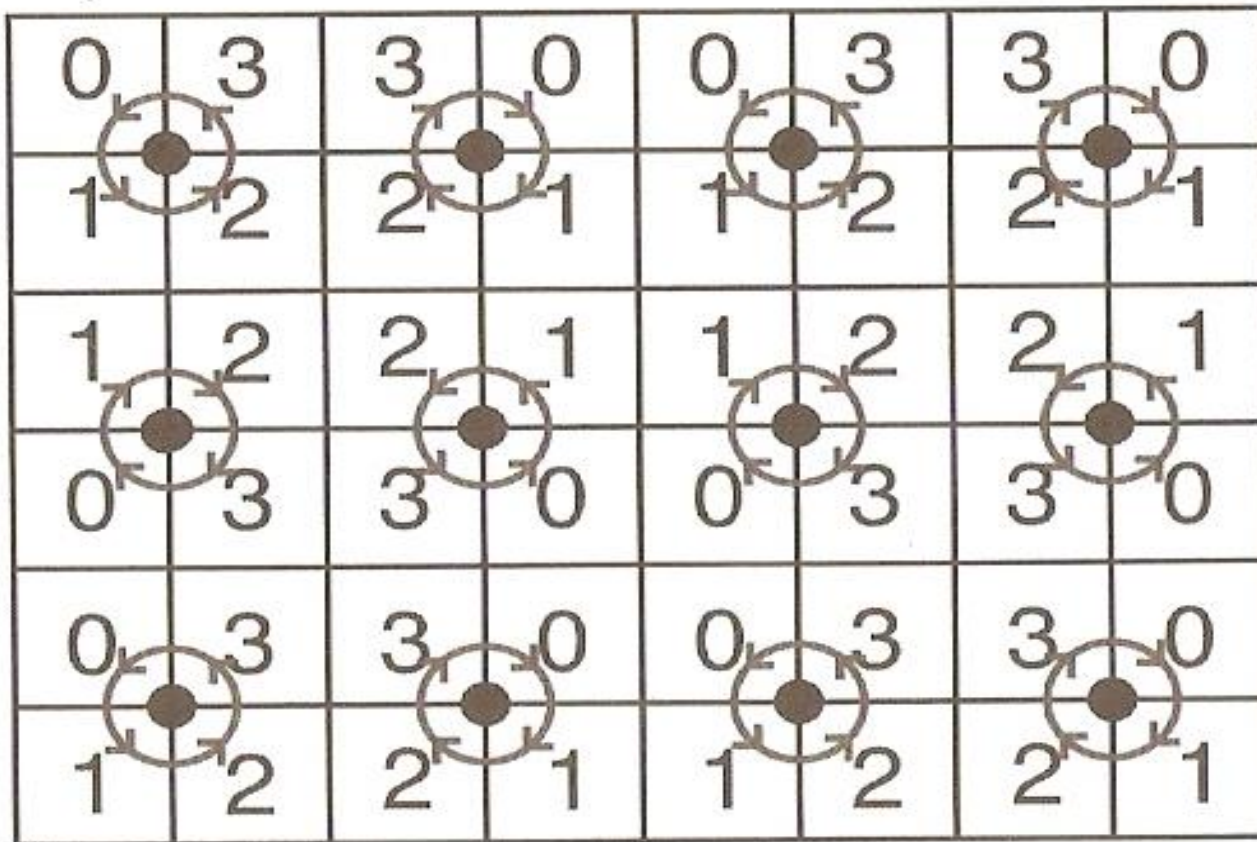


Temos.....



Mais uma surpresa!!!!

Além de ser um **retângulo “mágico”**, temos que a volta de cada um dos pontos da grelha, é alternadamente no sentido horário e anti-horário; e que em cada quadrado formado por quatro pontos vizinhos da grelha, temos sempre quatro números iguais.



Descobertas....

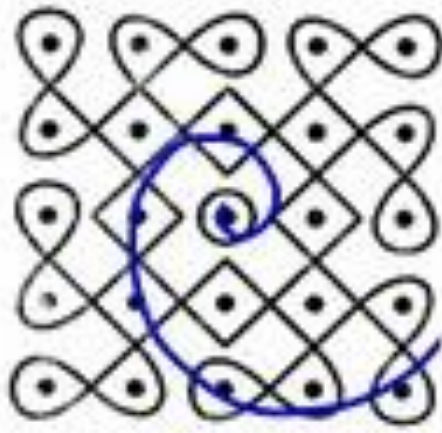
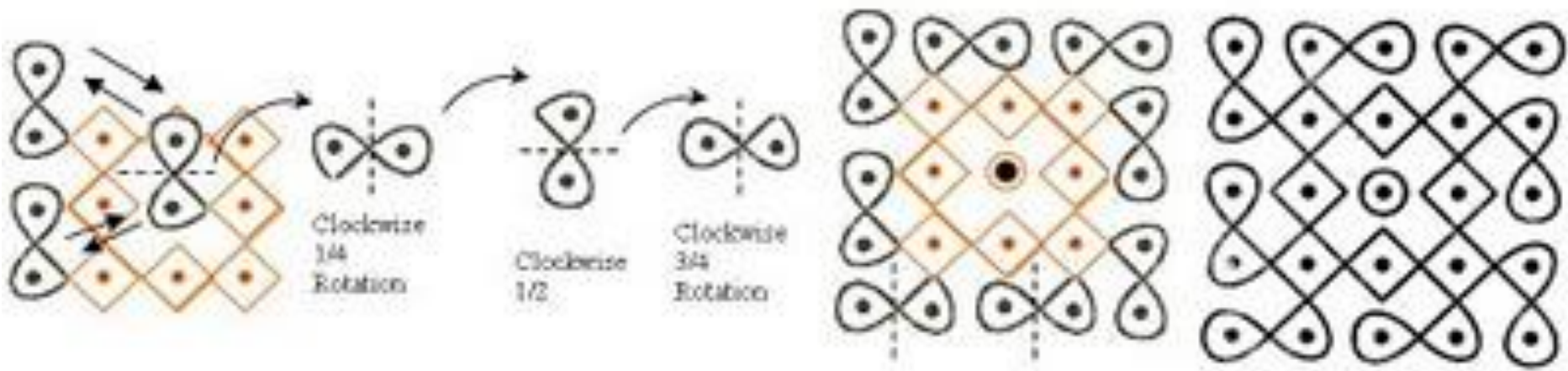
Ainda temos muitas descobertas realizadas por Gerdes, envolvendo mosaicos, fractais e matrizes cíclicas.

Nesse minicurso, desenvolvemos uma pequena introdução dos seus estudos na África.

Referências

GERDES, Paulus. Da etnomatemática a arte-design e matrizes cíclicas. Belo Horizonte: Autêntica Editora, 2010.

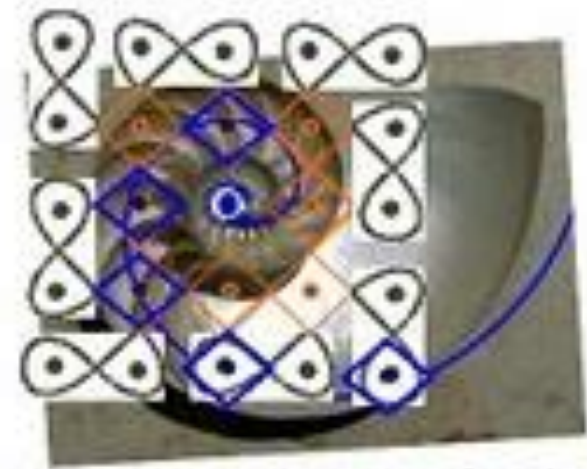
Para complementarmos, esse exemplo não foi retirado do livro “Da etnomatemática a arte-design e matrizes cíclicas”, mas pensando em rotações, vejamos que interessante.....



Imagine it Cover Off the Page (3-D)



While the nautilus shell is a logarithmic spiral it has an average ratio of 1.33 to 1 and not 1.618 as would be if it were a Golden Spiral.



But it serves as a good 3-D analog of what is happening with the luconia if it were expanded to higher dimensions, the example lines up on 6 points if you do a better job you can get yours to line up on 7 points of the spiral.

Alguns vídeos interessantes

- <http://www.youtube.com/watch?v=hdlWKuzkgSo> (**Cikku kolam..... by Chantal Jumel**)
- <http://www.youtube.com/watch?v=X9pEdDTOZ1w> (**Tartaruga**)
- <http://www.youtube.com/watch?v=plurbbmJv6Y> (**Simple Lusona**)